



INVESTICE DO ROZVOJE VZDĚLÁVÁNÍ

**Registrační číslo projektu: CZ.1.07./1.4.00/21.3075**

**Šablona: I/2**

**Sada: VY\_12\_INOVACE\_02 VM**

**Pořadové číslo vzdělávacího materiálu: 05**

**Ověření ve výuce:**

**Předmět: ČaJS**

**Třída: II. A**

**Datum: 10.12.2013**

## ***Žofka a čas***

**Předmět: Člověk a jeho svět**

**Vzdělávací oblast: Člověk a jeho svět**

**Ročník: 2.**

**Přibližný čas využití: 1 vyučovací hodina**

**Jméno autora: Mgr. Klára Folwarczná**

**Škola: ZŠ, Mendelova**

**Adresa školy: ulice Einsteinova 2871, 73301 Karviná – Hranice**

### **Anotace:**

Pracovní list s texty ke čtení je zaměřen na téma ČAS – zejména druhy hodin, určování hodin – celá, čtvrt, půl, třičtvrtě, také porozumění přečteného. Žáci se dále seznámí s pojmem rébus, který se pokusí vyřešit.

Přečtěte si pozorně krátký příběh o Žofce a odpovězte na následující otázky:

### Návštěva u Žofky

V sedm hodin ráno maminka budí Žofii a mladší sestřičku. Žofka a Lenka běží do koupelny. Tatínek v kuchyni prostírá stůl. V půl osmé volá: „Snídaně je hotová!“ Žofie zvládne dvě housky-jednu s medem a jednu s babiččinou jahodovou marmeládou. Žofce začíná v osm hodin škola. Žofie se už těší, budou se učit poznávat hodiny a ve čtvrt na jedenáct pojedou na plavání.

- 
1. V kolik hodin budí maminka Žofku?
  2. V kolik hodin tatínek volal Žofku k snídani?
  3. V kolik hodin začíná Žofce škola?
  4. V kolik hodin pojedou Žofka se školou plavat?

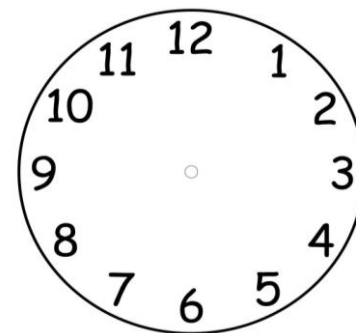
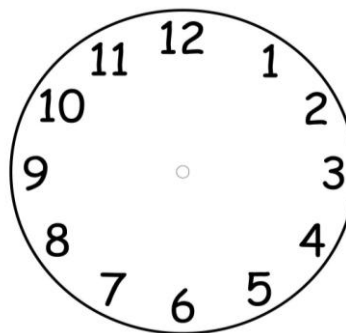


Vyznačte čas do budíků:

**1.**

**2.**

**3.**

**4.**

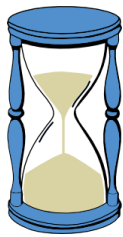


INVESTICE DO ROZVOJE VZDĚLÁVÁNÍ

Žofka se ve škole dozvěděla, že existuje několik druhů hodin – s ručičkami nebo s číslicemi. Bude doma vyprávět o hodinách, kterým se říká orloj. Ty ukazují hodiny, dny a měsíce a také pohyb Slunce, Měsíce a hvězd.

Pomůžeš Žofce s domácím úkolem?

1. Spoj obrázek s názvem:

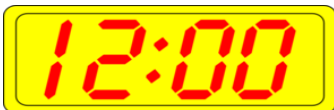


věžní hodiny










přesýpací hodiny

náramkové hodinky

digitální hodiny



2. Jak se nazývají hodiny, které ukazují pohyb Slunce, Měsíce a hvězd? Vylušti rébus a zjistíš, ve kterých městech takové hodiny jsou:

								
A	C	H	L	M	O	P	R	U



\_\_\_\_\_

\_\_\_\_\_

ŘEŠENÍ:

Přečtěte si pozorně krátký příběh o Žofce a odpovězte na následující otázky:

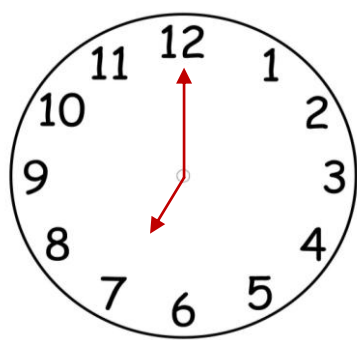
### Návštěva u Žofky

V sedm hodin ráno maminka budí Žofii a mladší sestřičku. Žofka a Lenka běží do koupelny. Tatínek v kuchyni prostírá stůl. V půl osmé volá: „Snídaně je hotová!“ Žofie zvládne dvě housky-jednu s medem a jednu s babiččinou jahodovou marmeládou. Žofce začíná v osm hodin škola. Žofie se už těší, budou se učit poznávat hodiny a ve čtvrt na jedenáct pojedou na plavání.

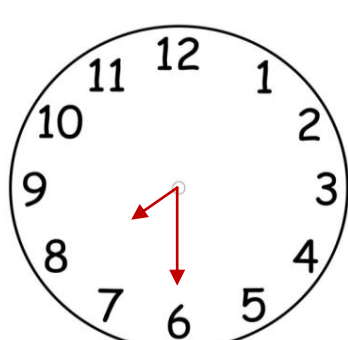
- 
1. V kolik hodin budí maminka Žofku?
  2. V kolik hodin tatínek volal Žofku k snídani?
  3. V kolik hodin začíná Žofce škola?
  4. V kolik hodin pojedou Žofka se školou plavat?

Vyznačte čas do budíků:

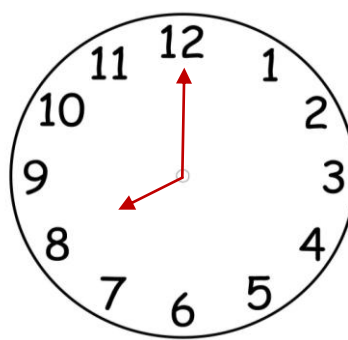
**1.**



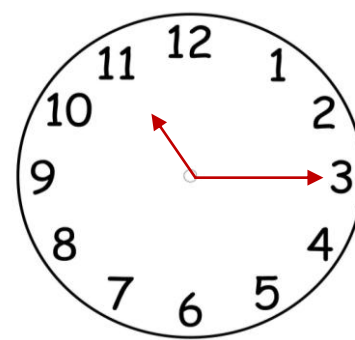
**2.**



**3.**



**4.**

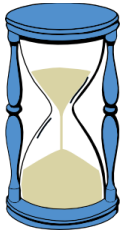





INVESTICE DO ROZVOJE VZDĚLÁVÁNÍ

Žofka se ve škole dozvěděla, že existuje několik druhů hodin – s ručičkami nebo s číslicemi. Bude doma vyprávět o hodinách, kterým se říká orloj. Ukazují hodiny, dny a měsíce a také pohyb Slunce, Měsíce a hvězd.

Pomůžeš Žofce s domácím úkolem?

1. Spoj obrázek s názvem:










věžní hodiny

přesýpací hodiny

náramkové hodinky

digitální hodiny

2. Jak se nazývají hodiny, které ukazují pohyb Slunce, Měsíce a hvězd? Vylušti rébus a zjistíš, ve kterých městech takové hodiny jsou:

								
A	C	H	L	M	O	P	R	U



OLOMOUC



PRAHA