

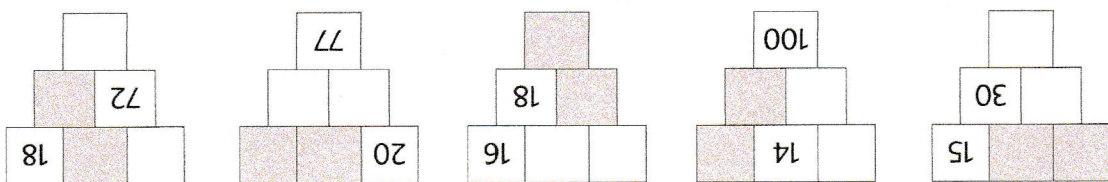


		160
		360
40		
600		

	190	
200		160
570		

1. Zapíš čísla tak, aby součet vodorovně, svisle i úhlopříčně byl roven číslu nad magickým čtvercem.

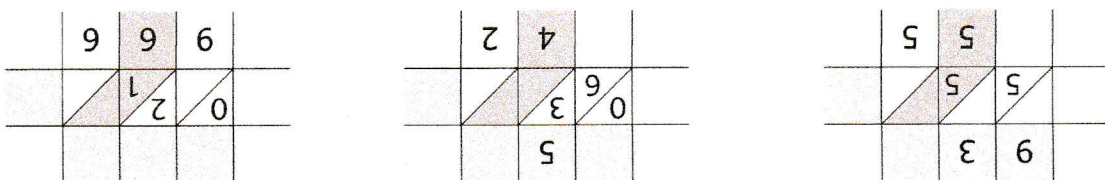
## Přirozená čísla do milionu 2



Doplň tak, aby byl součet barevných polí 38.


8		14 000			110 000		
kg	4	351	144	1 444			40
m		61 000		371 000		17 000	
km	400		7	362			89
cl		40 000			1 400		
l	5 000		5 050	40			141

Doplň tabulky.



Doplň indexické násobení.

856 325	724 566	604 406	1 012 105
1 000 000	201 500	987 000	1 000 900
102 400	865 222	1 000 001	1 012 105
742 655		406 604	



Doplň >, <, =